

**KAKO SO SLOVENCİ VODILI
GOSPODARSTVO MED OBEMA
VOJNAMA**

Gospodarstvo Kraljevine Jugoslavije



Primerjaj značilnosti gospodarske razvitosti posameznih predelov Kraljevine Jugoslavije.



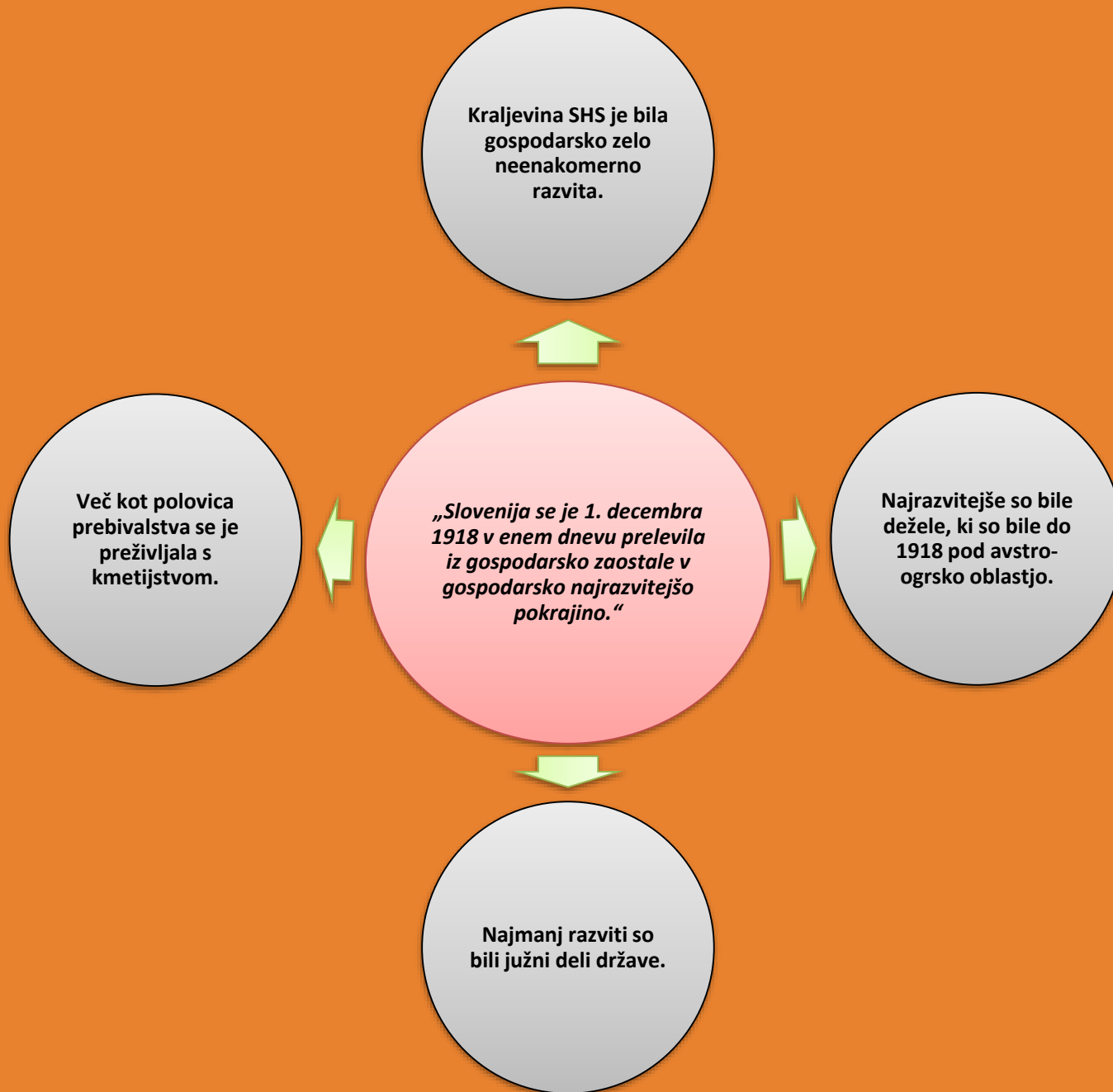
Ugotovi, katera gospodarska dejavnost prevladuje v Dravski banovini. Poizkusi to razmestitev industrije, ki jo kaže zemljevid tudi smiselno razložiti.

Sklepaj o gospodarski razvitosti in zaposlitveni sestavi prebivalstva Bele krajine.

Leta 1931	Jugoslavija	Slovenija
kmetijstvo	76,3 %	60,3 %
obrt in industrija	10,7 %	22,15 %
trgovina, promet	4,1 %	6,8 %
javne službe	4,6 %	10,2 %

Slovensko gospodarstvo se je precej razlikovalo od povprečja v Jugoslaviji.

V katerih panogah je bila razlika največja?



1. KMETIJSTVO



Majhnost kmetij

Slaba tehnična opremljenost

Razdrobljenost zemlje

Površina posesti (ha)	Delež gospodarstev (v %)	Obdelovalna površina
0 do 1	20	1,1
0 do 2	13	2,3
2 do 5	25	9,8
5 do 10	18	16,3
10 do 20	16	26,9
20 do 50	7	24,0
nad 50	1	19,6

Zadolževanje

Slaba rodovitnost zemlje

1929 velika gospodarska kriza

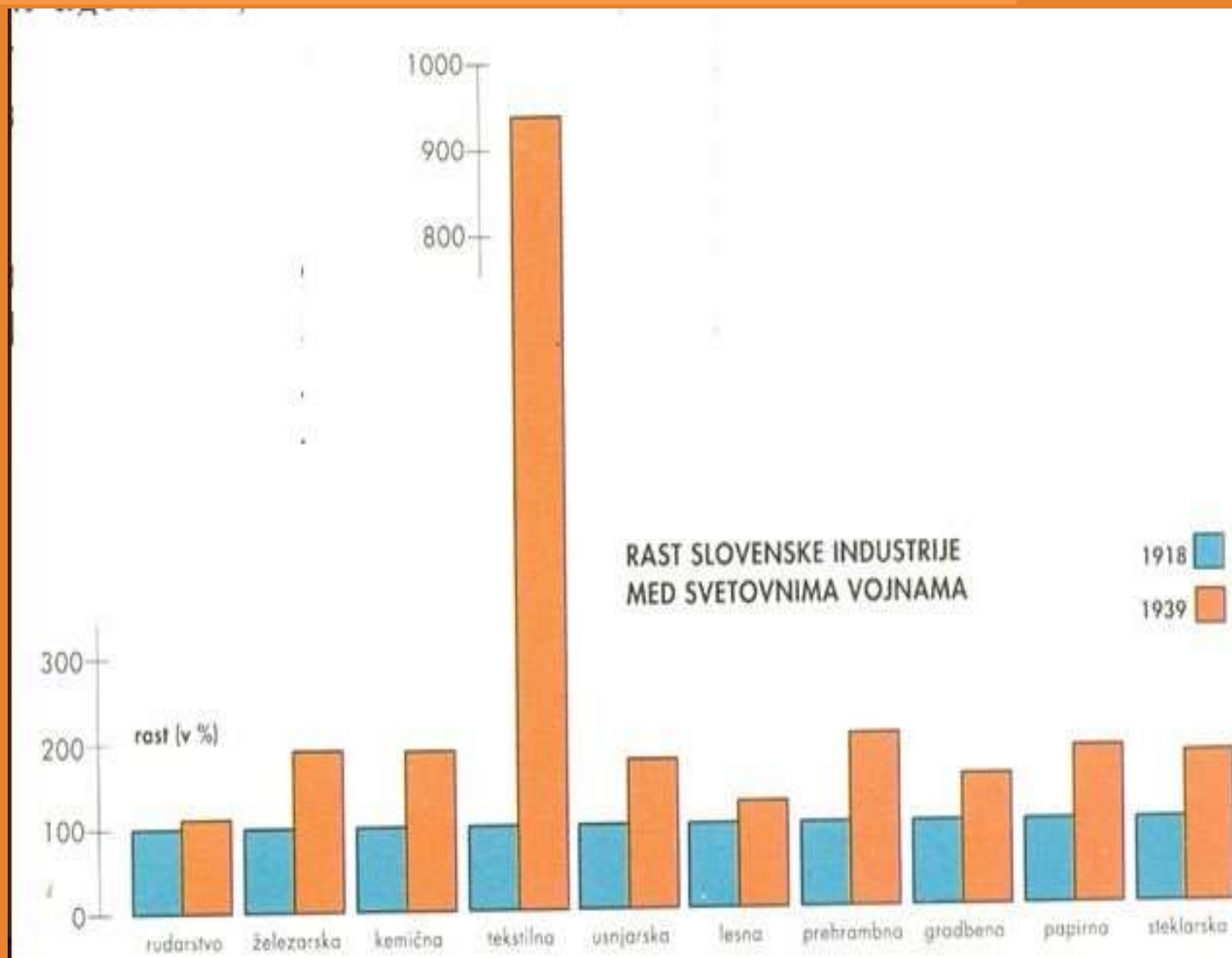
Kmetje so zapuščali kmetije, iskali delo v mestih ter se izseljevali v tujino.

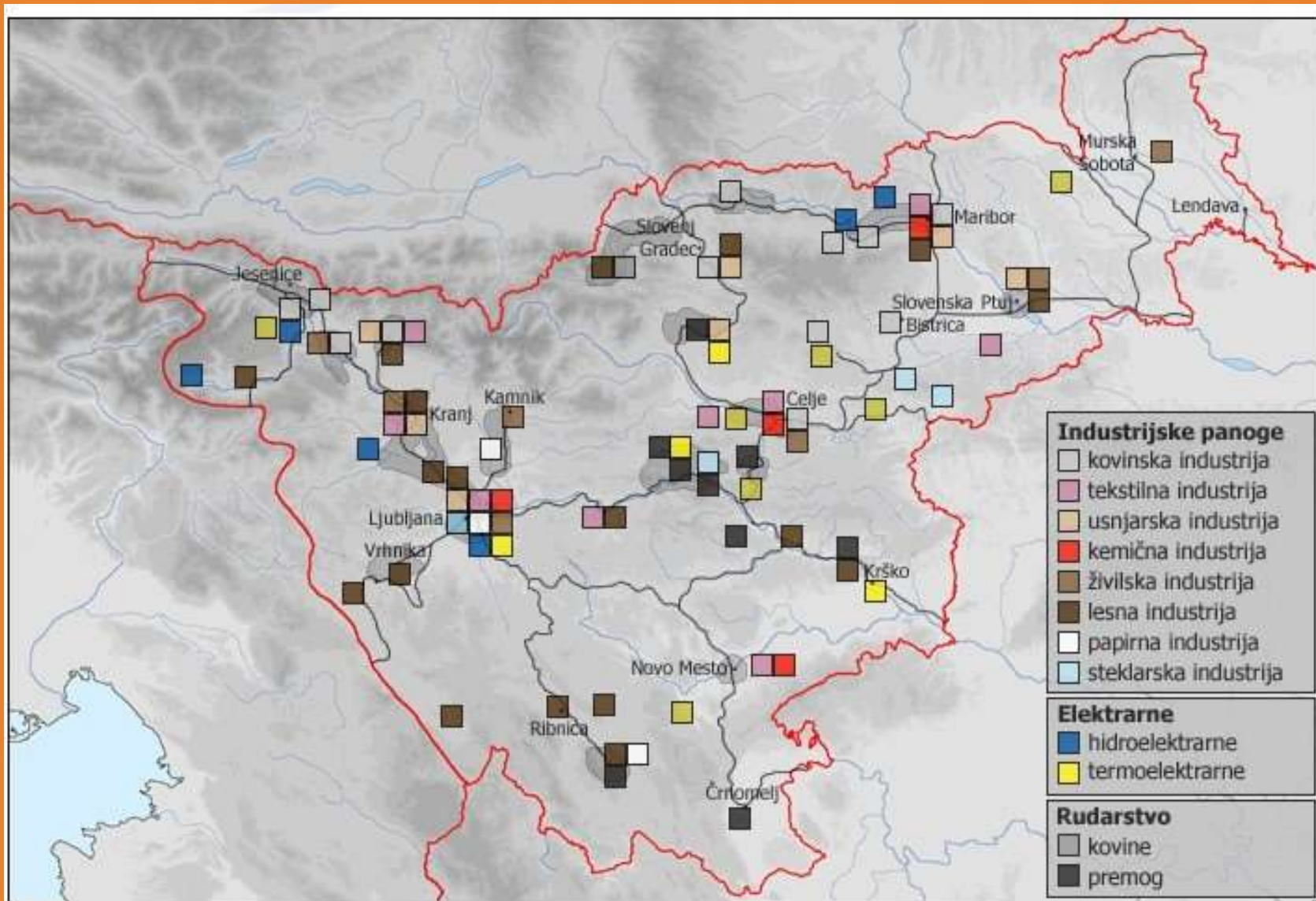
Konec 30. let se je položaj nekoliko izboljšal

Pomoč države

Pomoč pospeševalne službe, boljša semena, nove živinske pasme ... več pridelka...

2. SLOVENSKA INDUSTRIJA – NAJBOLJ RAZVITA V JUGOSLAVIJI





Pivovarna ter tovarna za spirit in kvas Union v Ljubljani je leta 1925 proizvedla 116.500 hl svetlega in temnega piva. Po vsej Sloveniji ga je pošiljala v sodčkih in steklenicah.



Velika ovira hitrejšega razvoja je bilo **pomanjkanje kapitala**; večina podjetij in bank v lasti **tujcev**.

Zgrajenih veliko modernih industrijskih obratov.

Pridobitev novih trgov je pospešila gradnjo in **modernizacijo** industrije.

Največji razmah: **lesna, kovinska in tekstilna** industrija.

Napredovalo je rudarstvo.

Gradili so daljnovode, ceste, železnice.



Razvoj trgovine je spodbujal tudi vsakoletni velesejem, ki so ga od leta 1921 prirejali v Ljubljani.

TRGOVINA – dobro razvita

NA PODEŽELJU – manjše trgovine z mešanim blagom

V MESTIH – specializirane trgovine s pestro in kakovostno ponudbo

1929 svetovna gospodarska kriza
– je močno **prizadela** slovensko trgovino: 1931 – 1937 propadla tretjina trgovin

3. Zdravilišča in mala letovišča

ROGAŠKA
SLATINA

Najmodernejše zdravilišče Kraljevine
SHS z naravnimi mineralnimi vreli

TEMPEL
STYRIA
DONAT



ZDRAVILIŠKI DOM

[Bled](#)

TURIZEM – je dobival večji pomen

PROMOCIJA turističnih krajev

GOSTJE – več kot polovica tujcev

V Sloveniji več kot 70 turističnih krajev

Najbolj obiskani turistični kraji: zdravilišča in alpski kraji

PONOVIMO

- 1. Kaj je bilo značilno za gospodarsko razvitost v Sloveniji in Jugoslaviji?**
- 2. Kaj je Sloveniji omogočalo hitrejši gospodarski razvoj v primerjavi s preostalimi deli države?**
- 3. Katere so bile najpomembnejše gospodarske panoge v Sloveniji?**

PREMISLI

- 1. Primerjaj gospodarsko vlogo Slovenije v Avstro-Ogrski in Jugoslaviji.**